

TEST Nº 4: DIAGRAMAS

Dispone de 5 minutos.

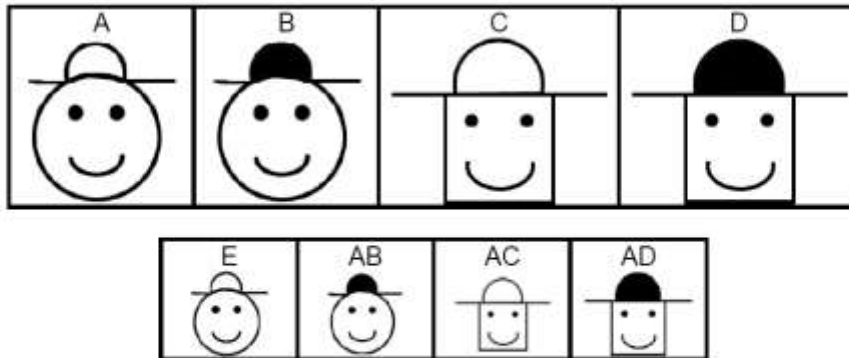
Cada pregunta consta de un diagrama de proceso. La figura final de este proceso será una de las que le proponemos más adelante. Tenga en cuenta que para identificarlas en su hoja de respuestas, a veces tendrá que marcar una letra (A, B, C, D, E) y otras veces dos letras (AB, AC, AD).

Todo problema se inicia con una figura a desarrollar, que aparece a la izquierda del diagrama seguida de la flecha de entrada en el diagrama.

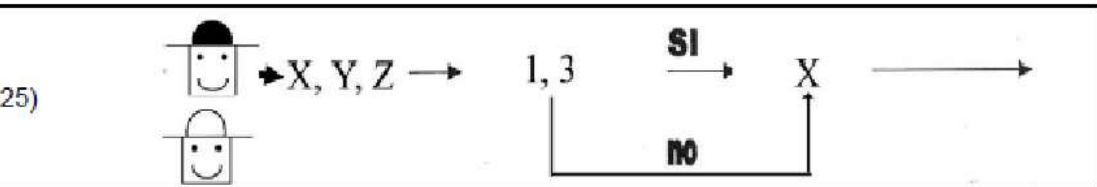
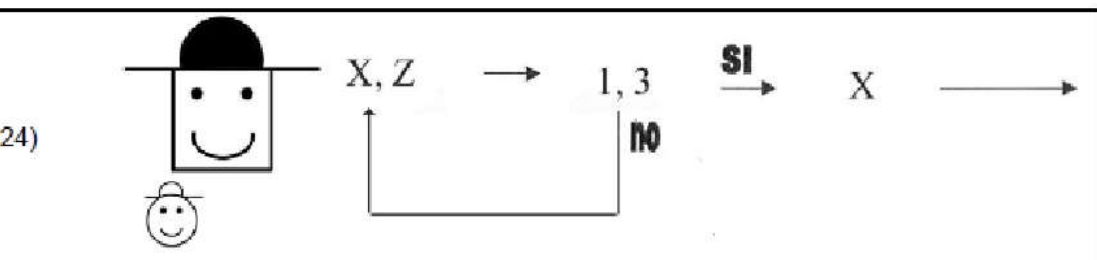
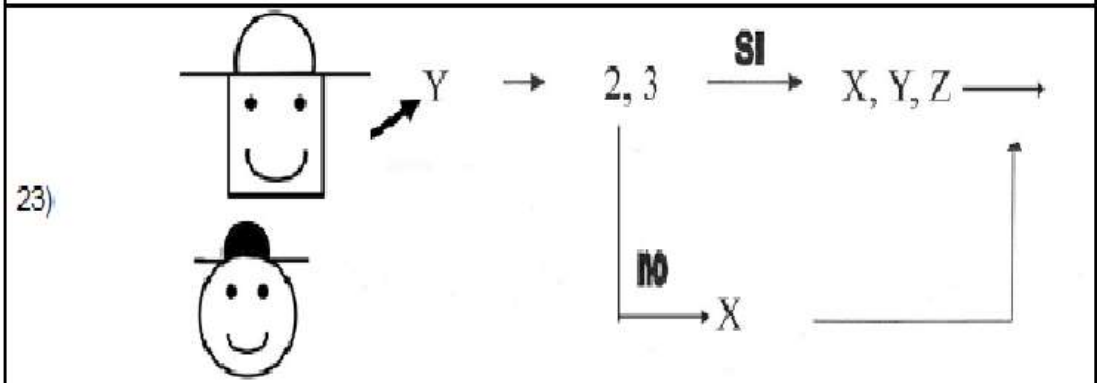
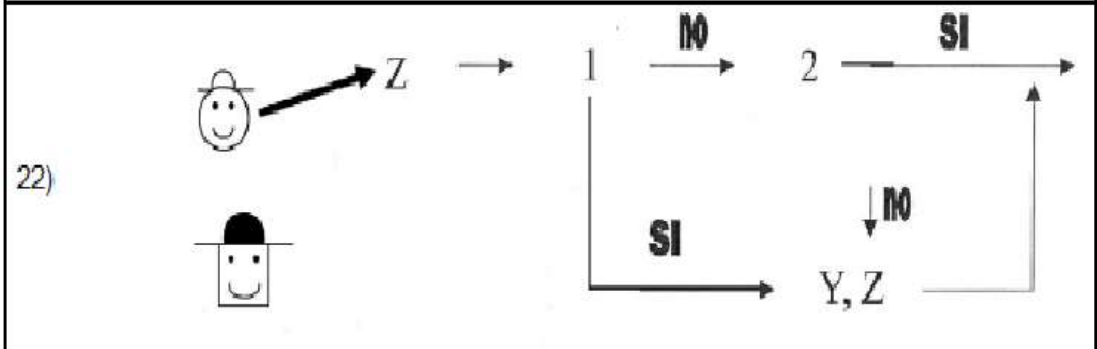
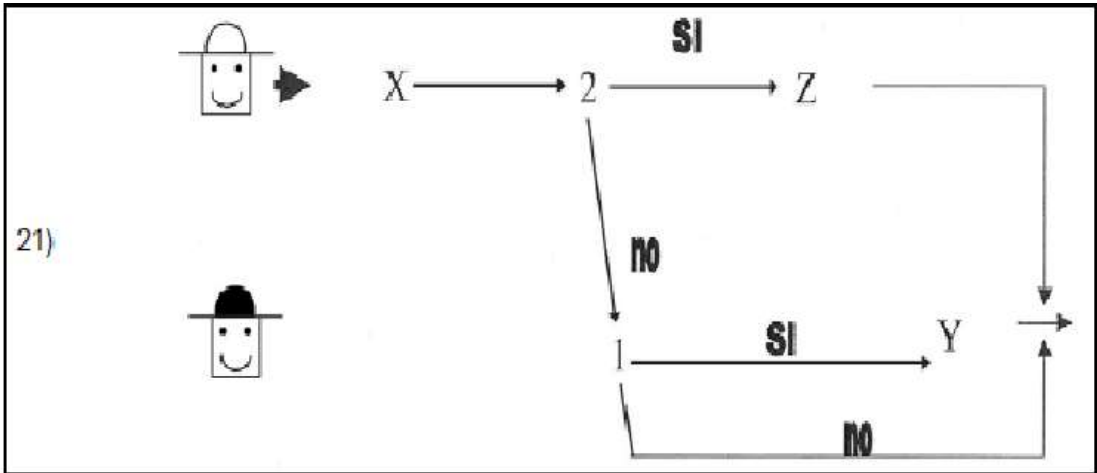
Durante el desarrollo del diagrama, se puede encontrar dos tipos de letras (X, Y, Z), que le ordena algún cambio a la figura en proceso; X cambio de forma, Y cambio de Tamaño, Z cambio de color y tipos de números (1, 2, 3) , que le ordena comparar la figura en proceso con la figura de comparación que tiene en la parte izquierda inferior del diagrama y seguir la flecha que indique Sí o No según el resultado (igual o no a la figura de comparación). Por tanto orden de cambio son las letras (X, Y, Z) y orden de comparación son los números (1, 2, 3).

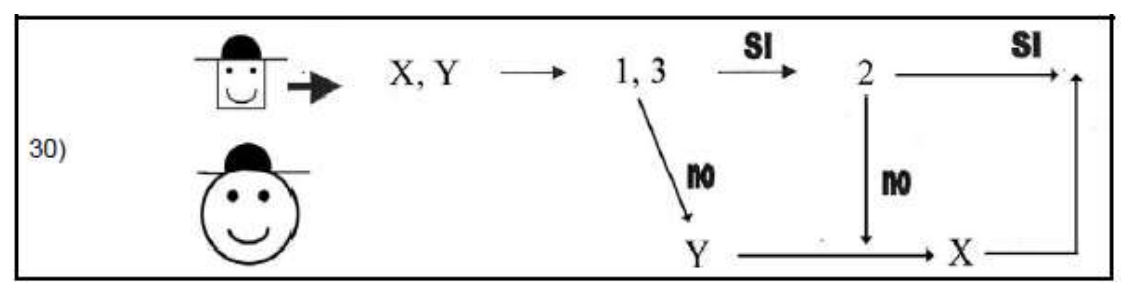
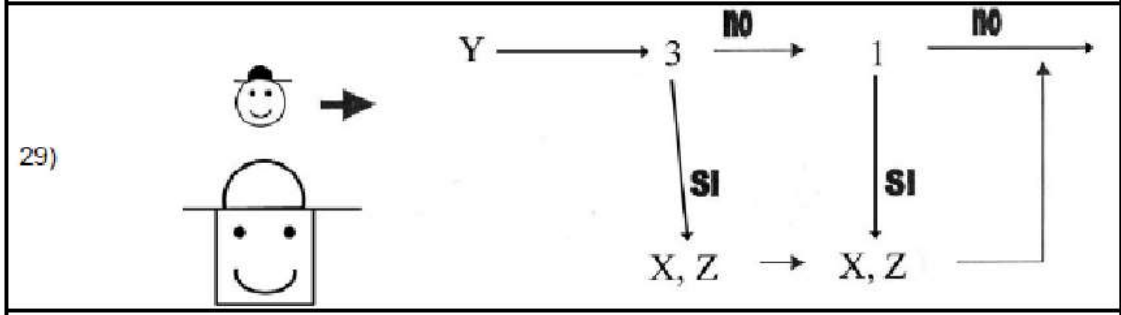
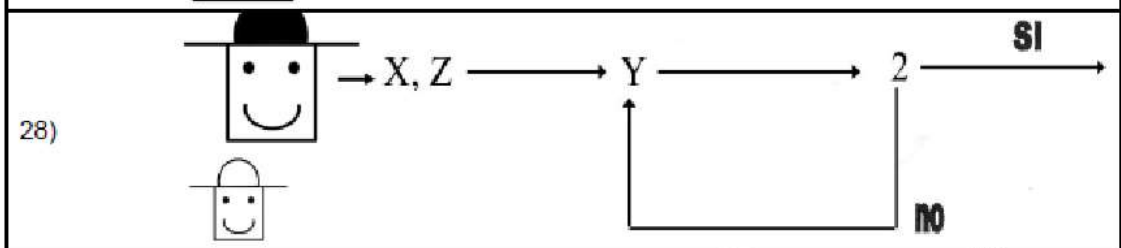
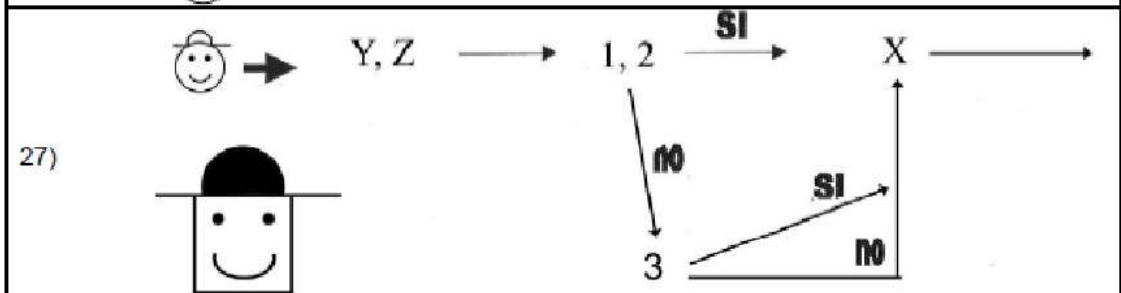
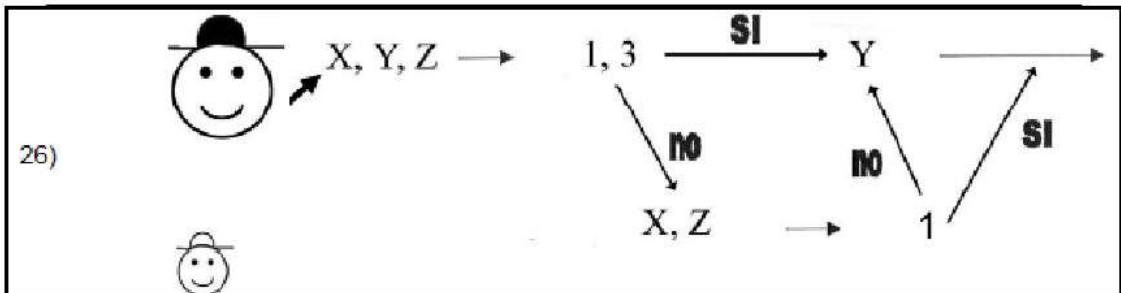
Su tarea consiste en iniciar el proceso de la figura a desarrollar y cumpliendo todas las instrucciones que se le dan mediante las órdenes de cambio y comparación, determinar cuál será la figura resultante.

A continuación se le muestran las ocho posibles figuras y debajo de ellas la letra que deberá anotar en la hoja de respuestas en caso de que crea que sea correcta.



INSTRUCCIONES DE CAMBIO		INSTRUCCIONES DE COMPARACION	
X	Forma	1	Forma
Y	Tamaño	2	Tamaño
Z	Color	3	Color





Soluciones:

21-AB	23-E	25-C	27-D	29-B
22-AB	24-C	26-AB	28-E	30-B