

ABS.CAMBIOS.2	COMPRESIÓN DE INSTRUCCIONES COMPLEJAS	Tiempo: 5 minutos
----------------------	--	-------------------

Esta prueba prueba consta de unos recuadros en los que un polígono va cambiando porque:

- Aumenta o disminuye el número de sus lados
- Aumenta o disminuye de tamaño
- Cambia el fondo del mismo

Estos cambios vienen ordenados por las instrucciones A y B que están entre los polígonos.

Si En las instrucciones hay un cuadrado (□) NO debe cambiar el número de los lados

Solo debe cambiar el numero de lados cuando hay un triángulo;







- 1.- Si el triángulo tiene el vértice hacia arriba (△) debe aumentar el número de lados
- 2.- Si el vértice apunta hacia abajo (▽) debe disminuir el número de lados.

Si el círculo está atravesado por una línea vertical (|), NO debe cambiar el tamaño


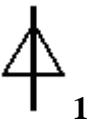

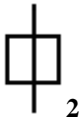

Si es una flecha hacia arriba (↑) debe de aumentar el tamaño, y si está hacia abajo (↓) debe disminuir el tamaño.

Su tarea es comprobar si se cumple lo que ordenan las instrucciones A y B.



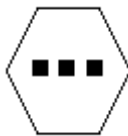

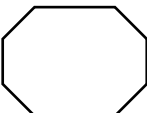
- Si sólo se cumple la instrucción A, debe dar la respuesta A
- Si sólo se cumple lo que indica la instrucción B, marque esa respuesta
- Si se cumple lo que indican ambas instrucciones conteste la letra C.
- Si no se cumple ni A ni B, conteste con la letra D.

 Igual lados	 Igual tamaño	1.- Cambio fondo interior	RESPUESTAS	
 Más lados	 Mayor tamaño	2.- Mismo fondo	A	Solo se cumple A
 Menos lados	 Menor tamaño	3.- Desaparecen las figuras interiores	B	Solo se cumple B
			C	Se cumplen A y B
			D	No se cumplen A ni B







EJEMPLO 1

	INSTRUCCION - A 		INSTRUCCION - B 	
---	---	---	---	---


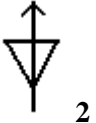
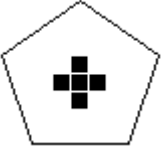

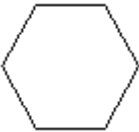

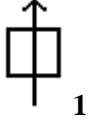


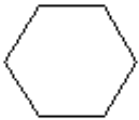

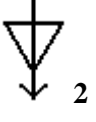

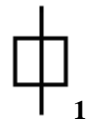
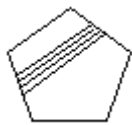



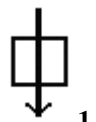


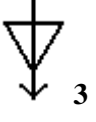
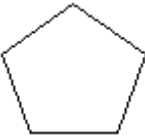
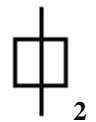
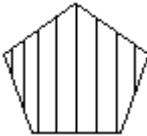

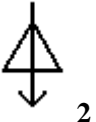

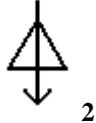




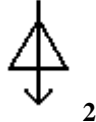

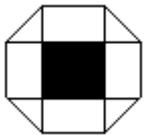


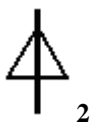
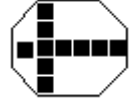
EJEMPLO 2







	INSTRUCCION - A 		INSTRUCCION - B 	
---	---	---	---	---




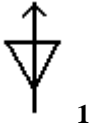
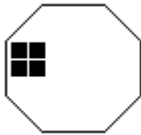
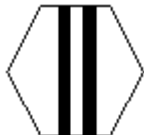


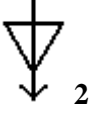

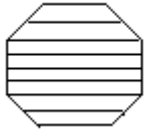



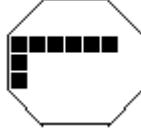
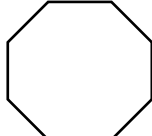
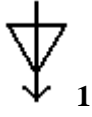

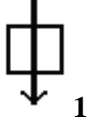



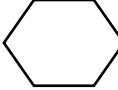

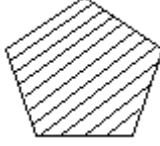
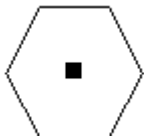

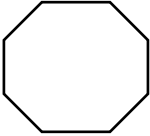
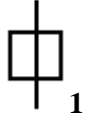
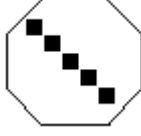
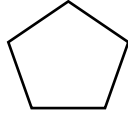
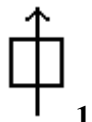

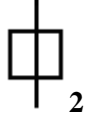

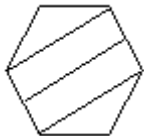

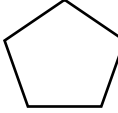
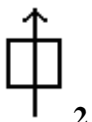
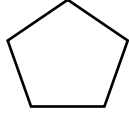
Las respuestas son B en E1 y D en E2.

 Igual lados	 Igual tamaño	1.- Cambio fondo interior	RESPUESTAS	
 Más lados	 Mayor tamaño	2.- Mismo fondo	A	Solo se cumple A
 Menos lados	 Menor tamaño	3.- Desaparecen las figuras interiores	B	Solo se cumple B
			C	Se cumplen A y B
			D	No se cumplen A ni B

¿Dónde se cumplen los cambios que piden las Instrucciones ?

		INSTRUCCIÓN A		INSTRUCCIÓN B	
1.-					
2.-					
3.-					
4.-					
5.-					
6.-					
7.-					
8.-					

 Igual lados	 Igual tamaño	1.- Cambio fondo interior	RESPUESTAS	
 Más lados	 Mayor tamaño	2.- Mismo fondo	A	Solo se cumple A
 Menos lados	 Menor tamaño	3.- Desaparecen las figuras interiores	B	Solo se cumple B
			C	Se cumplen A y B
			D	No se cumplen A ni B

		INSTRUCCIÓN A		INSTRUCCIÓN B	
9.-					
10.-					
11.-					
12.-					
13.-					
14.-					
15.-					
16.-					

Soluciones de ABS CAMBIOS 2

S.ABS.CAMBIOS.2	
1	<i>C</i>
2	B
3	A
4	A
5	D
6	A
7	B
8	A
9	A
10	D
11	A
12	A
13	C
14	C
15	B
16	A