

ABS.CAMBIOS.1	COMPRESIÓN DE INSTRUCCIONES COMPLEJAS	Tiempo: 5 minutos
----------------------	--	--------------------------

Esta prueba consta de unos recuadros en los que un polígono va cambiando porque:

- Aumenta o disminuye el número de sus lados
- Aumenta o disminuye de tamaño
- Cambia el fondo del mismo

Estos cambios vienen ordenados por las instrucciones A y B que están entre los polígonos.

Si En las instrucciones hay un cuadrado (□) NO debe cambiar el número de los lados

Solo debe cambiar el numero de lados cuando hay un triángulo;







- 1.- Si el triángulo tiene el vértice hacia arriba (△) debe aumentar el número de lados
- 2.- Si el vértice apunta hacia abajo (▽) debe disminuir el número de lados.

Si el círculo está atravesado por una línea vertical (|), NO debe cambiar el tamaño


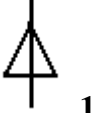

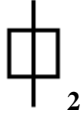

Si es una flecha hacia arriba (↑) aumente el tamaño, y si está hacia abajo (↓) debe disminuir tamaño.

Su tarea es comprobar si se cumple lo que ordenan las instrucciones A y B.





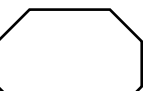
- Si sólo se cumple la instrucción A, debe dar la respuesta A
- Si sólo se cumple lo que indica la instrucción B, marque esa respuesta
- Si se cumple lo que indican ambas instrucciones conteste la letra C.
- Si no se cumple ni A ni B, conteste con la letra D.

 Igual lados	 Igual tamaño	1.- Cambio fondo interior	RESPUESTAS	
 Más lados	 Mayor tamaño	2.- Mismo fondo	A	Solo se cumple A
 Menos lados	 Menor tamaño	3.- Desaparecen las figuras interiores	B	Solo se cumple B
			C	Se cumplen A y B
			D	No se cumplen A ni B







EJEMPLO 1


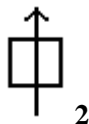
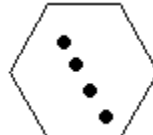
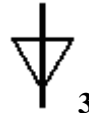
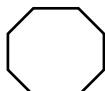
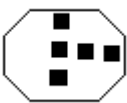

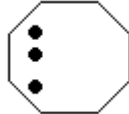
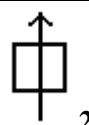
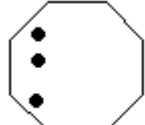


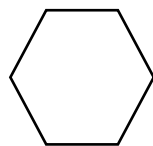


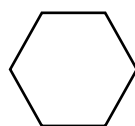
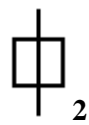

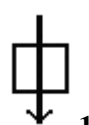
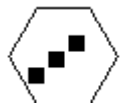

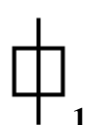


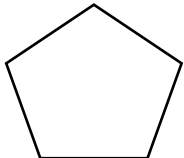


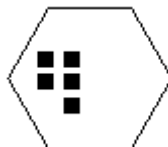
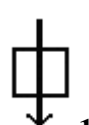


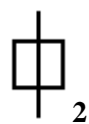
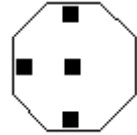


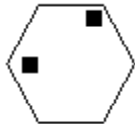

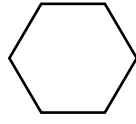
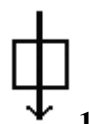
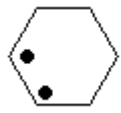
	INSTRUCCION - A  1		INSTRUCCION - B  2	
---	--	---	--	---

EJEMPLO 2



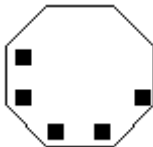
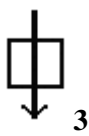
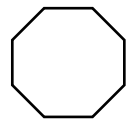

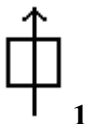

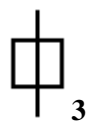



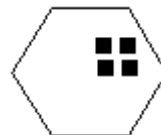
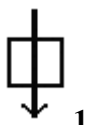
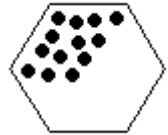

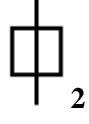
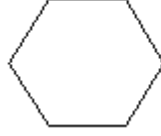



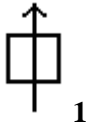

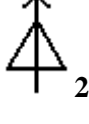

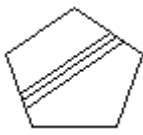

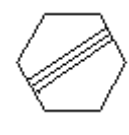

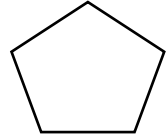





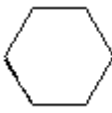


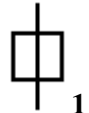
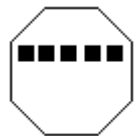
	INSTRUCCION - A  3		INSTRUCCION - B 	
---	--	---	---	---

Las respuestas son B en E1 y D en E2.

 Igual lados	 Igual tamaño	1.- Cambio fondo interior	RESPUESTAS	
 Más lados	 Mayor tamaño	2.- Mismo fondo	A B	Solo se cumple A Solo se cumple B
 Menos lados	 Menor tamaño	3.- Desaparecen las figuras interiores	C D	Se cumplen A y B No se cumplen A ni B

		INSTRUCC IÓN A		INSTRUC CIÓN B	
1.-					
2.-					
3.-					
4.-					
5.-					
6.-					
7.-					
8.-					

		INSTRUCCIÓN A		INSTRUCCIÓN B	
--	--	------------------	--	------------------	--

9.-					
10.-					
11.-					
12.-					
13.-					
14.-					
15.-					
16.-					

S.
ABS.CAMBIOS.1

1.-	A
2.-	C
3.-	A
4.-	C
5.-	A
6.-	C
7.-	A
8.-	B
9.-	C
10.-	A
11.-	A
12.-	D
13.-	A
14.-	C
15.-	C
16.-	C